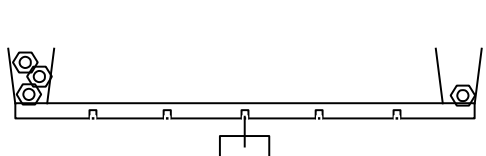


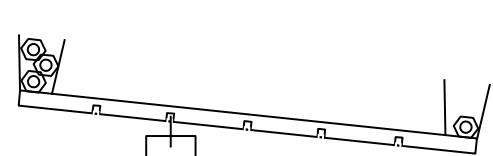
Nom Prénom Classe Date

EXERCICE 1: En te référant aux expériences que tu as faites en classe, coche les cases "possible" ou "impossible" pour les situations indiquées sous forme de schémas.



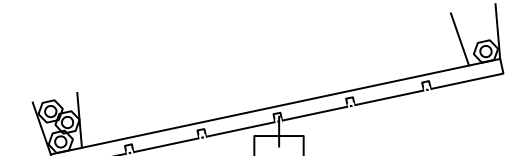
Situation 1

possible impossible



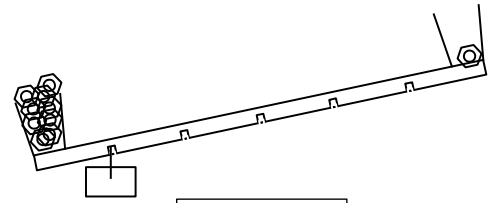
Situation 2

possible impossible




Situation 3

possible impossible



Situation 4


possible impossible

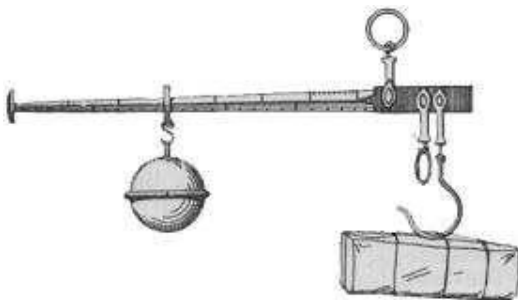


Situation 5

possible impossible

EXERCICE 2: En te servant des 5 noms donnés en bas de page, inscris sous chaque image le nom qui correspond à l'objet montré.





Liste des 5 noms : *balance romaine - pèse personne - dynamomètre - pèse lettre - balance Roberval*